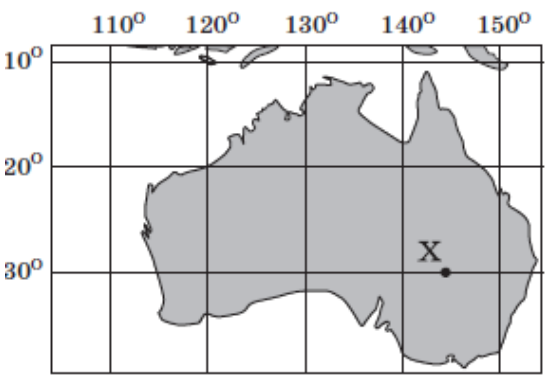
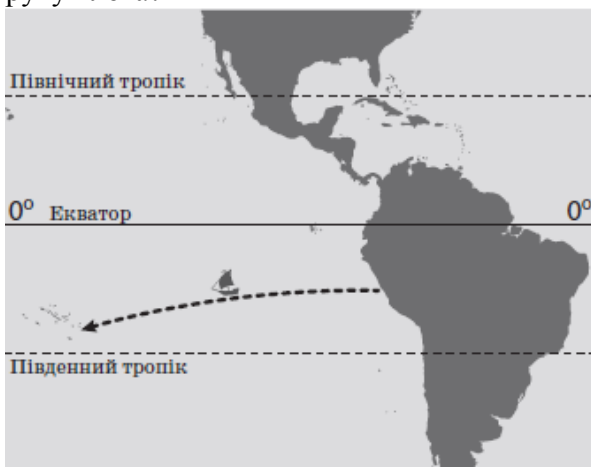
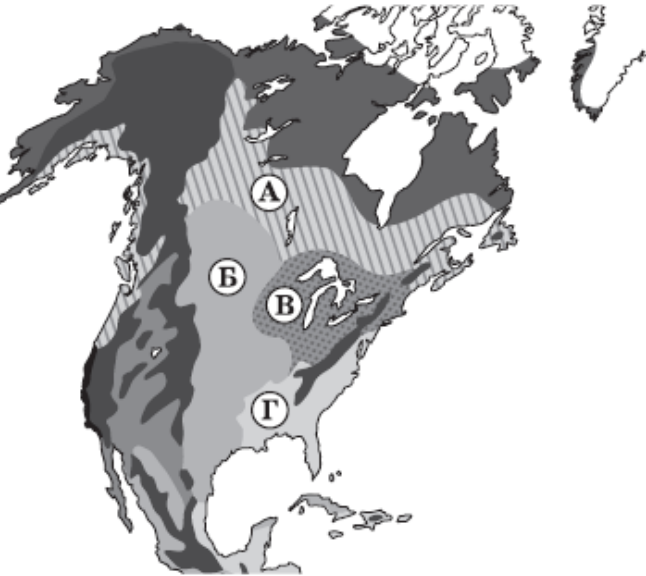

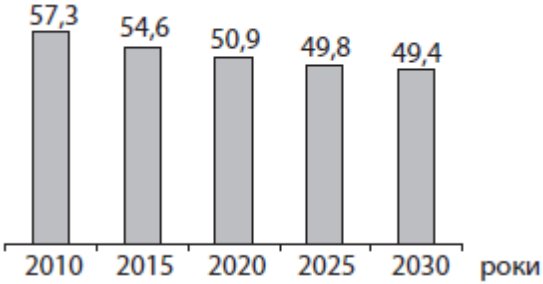

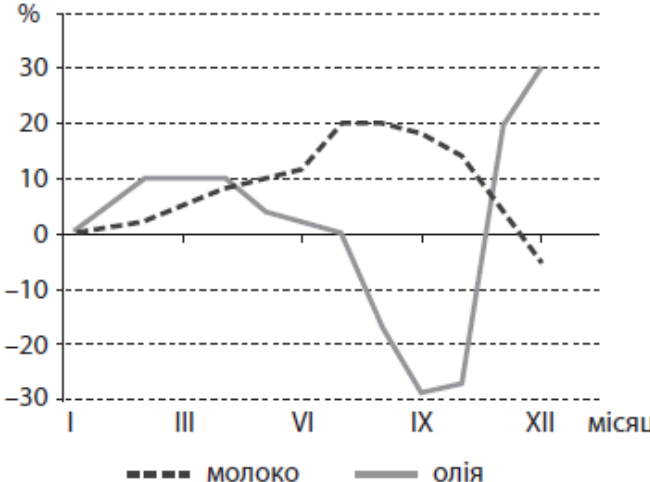
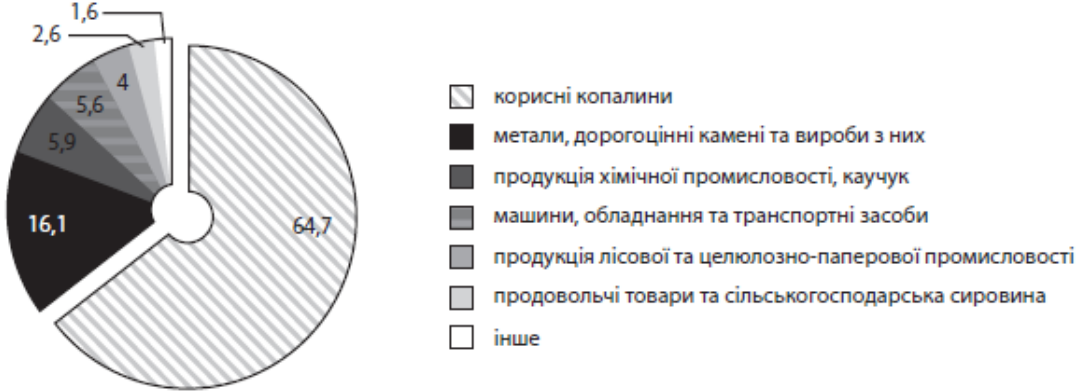




№	Зміст завдання та правильна відповідь	Відповідність завдання Програми зовнішнього незалежного оцінювання з географії
1	<p>Яка подія відбулася на початку епохи Великих географічних відкриттів?</p> <p>відкрито Америку європейцями</p>	<p><b>Розвиток географічних досліджень.</b> Найвизначніші географічні відкриття, видатні мандрівники</p>
2	<p>Різниця між тривалістю дня і ночі збільшується з наближенням до полюсів.</p>	<p><b>Загальні закономірності природи Землі</b></p>
3	<p>Визначте місцеположення географічного об'єкта, позначеного на карті точкою Х.</p>  <p>на південь від екватора, у східній півкулі</p>	<p><b>Способи зображення Землі.</b> Визначення географічних координат об'єктів</p>
4	<p>Які гірські породи належать до групи органічних осадових?</p> <p>торф, буре вугілля</p>	<p><b>Літосфера.</b> Будова та типи земної кори, породи та мінерали що її складають</p>
5	<p>Укажіть ознаку наближення цунамі до берега океанічної затоки.</p> <p>вода відступає від берега на сотні метрів</p>	<p><b>Гідросфера.</b> Світовий океан. Рух води</p>
6	<p>Де знаходяться найбільші запаси прісної води на планеті?</p> <p>у льодовиках</p>	<p><b>Гідросфера.</b></p>
7	<p>Тур Хейєрдал здійснив плавання на «Кон-Тікі» – папірусному плоту з вітрилом від берегів Південної Америки до островів Туамоту. Що зумовило такий напрямок руху плоту?</p>  <p>пасат</p>	<p><b>Атмосфера та клімат.</b> Загальна циркуляція атмосфери. Постійні вітри</p>

8	<p>У середині 1960-х років пестициди, що використовувалися на полях Канади і США, було виявлено в печінці пінгвінів в Антарктиді. Укажіть закономірність географічної оболонки, проявом якої є виявлення цих хімікатів в організмах пінгвінів.</p> <p>цілісність</p>	<p><b>Географічна оболонка.</b> Загальні закономірності географічної оболонки</p>
9	<p>Яка протока сполучає Середземне море з Атлантичним океаном?</p> <p>Гібралтарська</p>	<p><b>Географія материків і океанів.</b> Протоки</p>
10	<p>Укажіть особливість рельєфу Африки.</p> <p>переважають височини, плато, плоскогір'я</p>	<p><b>Африка.</b> Геологічна будова та основні форми рельєфу материка</p>
11	<p>Яка погода спостерігається влітку в центральній частині Антарктиди?</p> <p>холодна (середня температура січня <math>-30^{\circ}\text{C}</math>), сонячна</p>	<p><b>Антарктида.</b> Клімат</p>
12	<p>Чим зумовлене надмірне зволоження Амазонської низовини?</p> <p>пануванням екваторіальних повітряних мас</p>	<p><b>Південна Америка.</b> Клімат материків.</p>
13	<p>Якою буквою на карті Північної Америки позначено природну зону лісостепів і степів?</p>  <p>Г</p>	<p><b>Північна Америка.</b> Природні зони</p>
14	<p>Прочитайте опис одного з озер Євразії: «Раніше озеро було одним із найбільших у світі. Від початку 60-х років XX століття його площа скоротилася в кілька разів, а там, де колись була вода, утворилася пустеля. Акваторію озера проголошено зоною екологічного лиха». Про яке озеро йдеться?</p> <p>Аральське</p>	<p><b>Євразія.</b> Води суходолу: озера</p>
15	<p>Чому в Альпах немає гірського поясу тропічних лісів?</p> <p>гори розташовані в помірних широтах</p>	<p><b>Євразія.</b> Висотна поясність</p>
16	<p>У якому географічному поясі знаходяться крайні північна і східна точки України?</p> <p>помірному</p>	<p><b>Географічне положення, формування території України</b></p>
17	<p>У межах якої тектонічної структури на території України знаходиться кам'яновугільний басейн?</p> <p>Галицько-Волинського (Львівського) прогину</p>	<p><b>Природні умови і ресурси України.</b> Закономірності поширення, характеристика паливних корисних копалин</p>

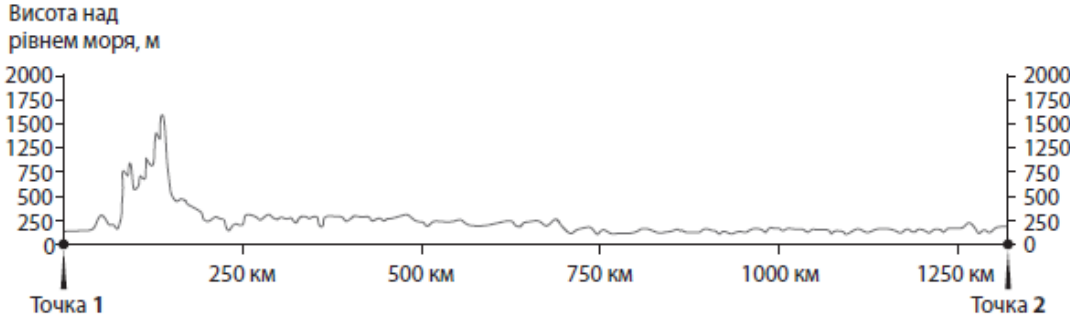
18	<p>Чим зумовлене зростання континентальності клімату України з північного заходу на південний схід?</p> <p>поступовим віддаленням від Атлантичного океану</p>	<p><b>Природні умови і ресурси України.</b> Кліматичні умови.</p>
19	<p>Укажіть регіон України, у якому річки глибоко врізаються у вапняки й пісковики, утворюючи каньйоноподібні долини.</p> <p>Поділля</p>	<p><b>Природні умови і ресурси України.</b> Річки</p>
20	<p>Фермер на своїй земельній ділянці, що розташована на крутому схилі, заклав тераси (див. рисунок). Через кілька років став помітним результат такого підходу до землекористування –</p>  <p>призупинився процес змиву ґрунту.</p>	<p><b>Природні умови і ресурси України.</b> Ґрунти. Охорона ґрунтів.</p>
21	<p>Який тип рослинності найбільш поширений як на заплавах річок, так і на полонинах Українських Карпат?</p> <p>лучна</p>	<p><b>Природні умови і ресурси України.</b> Рослинний світ</p>
22	<p>Через ділянку лісу планується прокласти швидкісну автомобільну магістраль. Який негативний вплив автобану на природу потрібно спрогнозувати експертам цього проекту?</p> <p>зміну міграційних шляхів тварин</p>	<p><b>Використання природних умов і ресурсів та їх охорона.</b> Зміна природних компонентів під впливом господарської діяльності людини</p>
23	<p>Чим зумовлене істотне перевищення частки жінок у статевій структурі населення України?</p> <p>тривалість життя жінок більша, ніж чоловіків</p>	<p><b>Населення України.</b> Демографічна ситуація. Статеву структуру населення</p>
24	<p>Визначте основну причину прогнозованих змін в обсягах споживання природного газу (у млрд м<sup>3</sup>) в Україні, які відображено на діаграмі.</p>  <p>упровадження в Україні енергозберігаючих виробничих технологій</p>	<p><b>Господарство України.</b> Газова промисловість</p>
25	<p>Укажіть центр літакобудування в Україні.</p> <p>Харків</p>	<p><b>Господарство України.</b> Машинобудування.</p>

<p>26</p>	<p>Чим темнішим кольором позначена область на картограмі, тим більшою є частка цієї області в загальному обсязі виробництва в Україні</p>  <p>чорних металів.</p>	<p><b>Господарство України.</b> Географія чорної металургії.</p>
<p>27</p>	<p>У багатьох промислових центрах Донбасу й Придніпров'я поблизу металургій-них комбінатів розташовано</p> <p>коксохімічні заводи.</p>	<p><b>Господарство України.</b> Географія окремих виробництв хімічної промисловості</p>
<p>28</p>	<p>Який чинник зумовив найбільшу в Україні концентрацію виробництва товарного бетону в м. Києві?</p> <p>споживчий</p>	<p><b>Господарство України.</b> Промисловість будівельних матеріалів</p>
<p>29</p>	<p>Укажіть підприємство, на якому виробництво основної продукції повністю залежить від імпорту сировини.</p> <p>Миколаївський глиноземний завод</p>	<p><b>Господарство України.</b> Кольорова металургія</p>
<p>30</p>	<p>У якому з наведених економічних районів України частка рекреаційних послуг у структурі його валового продукту є найбільшою?</p> <p>Карпатському</p>	<p><b>Господарство України.</b> Рекреаційно-туристське господарство. Економічні райони</p>
<p>31</p>	<p>Укажіть пріоритетний напрям розвитку залізничного транспорту в Україні.</p> <p>упровадження швидкісного руху пасажирських поїздів</p>	<p><b>Господарство України.</b> Залізничний транспорт</p>
<p>32</p>	<p>Проаналізуйте відображені на графіку темпи збільшення/зменшення обсягів виробництва молока та олії протягом року і визначте основну причину такої динаміки цих показників.</p>  <p>сезонний характер виробництва цих видів продукції або сировини</p>	<p><b>Господарство України.</b> Харчова промисловість. Сільське господарство</p>

33	<p>Укажіть найпоширеніший на політичній карті світу тип держави.</p> <p>республіка</p>	<p><b>Сучасна політична карта світу.</b>          Форми правління й адміністративно-територіальний устрій країн.</p>												
34	<p>Який вид природних ресурсів має зональний характер поширення на планеті?</p> <p>лісові угіддя</p>	<p><b>Взаємодія суспільства і природи.</b>          Природні ресурси материків і океанів, їх класифікація</p>												
35	<p>Укажіть регіон, для якого характерна наведена в таблиці динаміка частки (%) міського населення.</p> <table border="1" data-bbox="195 481 901 589"> <thead> <tr> <th>Рік</th> <th>1950</th> <th>1970</th> <th>1990</th> <th>2000</th> <th>2010</th> </tr> </thead> <tbody> <tr> <td>Частка міського населення, %</td> <td>14,6</td> <td>23,0</td> <td>32,1</td> <td>39,0</td> <td>43,6</td> </tr> </tbody> </table> <p>Африка</p>	Рік	1950	1970	1990	2000	2010	Частка міського населення, %	14,6	23,0	32,1	39,0	43,6	<p><b>Населення світу.</b>          Аналіз демографічних показників населення світу</p>
Рік	1950	1970	1990	2000	2010									
Частка міського населення, %	14,6	23,0	32,1	39,0	43,6									
36	<p>«Центральна вісь розвитку» господарства Західної Європи, що концентрує дві третини промислового потенціалу регіону, проходить з півдня Великої Британії до півночі Італії.</p>	<p><b>Регіони та країни світу.</b>          Загальна характеристика країн Європи</p>												
37	<p>Структуру експорту якої країни зображено на діаграмі?</p>  <p>Росії</p>	<p><b>Регіони та країни світу.</b>          Росія</p>												
38	<p>Укажіть головну рису територіальної структури господарства країн Латинської Америки.</p> <p>загальне зміщення економічної діяльності до океанічного узбережжя</p>	<p><b>Регіони та країни світу.</b>          Загальна характеристика країн Латинської Америки</p>												
39	<p>Укажіть групу країн, що є основними споживачами рафінованої міді.</p> <p>країни «Великої сімки»</p>	<p><b>Світове господарство.</b>          Металургія</p>												

<p><b>40</b></p>	<p>На карті позначено території десяти країн-лідерів за обсягом валового збору рису.</p> 	<p><b>Світове господарство.</b> Сільське господарство</p>								
<p><b>41</b></p>	<p>Який вид транспорту забезпечує понад 75 % перевезень вантажів між країнами світу?</p> <p>морський</p>	<p><b>Світове господарство.</b> Транспорт</p>								
<p><b>42</b></p>	<p>Укажіть основну причину значного погіршення стану архітектурно-історичних пам'яток Європи у XX столітті.</p> <p>збільшення інтенсивності випадання кислотних дощів</p>	<p><b>Взаємодія суспільства і природи.</b> Зміна взаємозв'язків між компонентами природи під впливом господарської діяльності людини. Порушення рівноваги в природних комплексах</p>								
<p><b>43</b></p>	<p>Установіть відповідність між тектонічною платформою та рівниною, якою частина цієї платформи виражена в рельєфі.</p> <table border="1" data-bbox="181 1267 1280 1418"> <tr> <td>Австралійська</td> <td>Центральна низовина</td> </tr> <tr> <td>Індостанська</td> <td>плато Декан</td> </tr> <tr> <td>Південноамериканська</td> <td>Бразильське плато</td> </tr> <tr> <td>Північноамериканська</td> <td>Великі рівнини</td> </tr> </table>	Австралійська	Центральна низовина	Індостанська	плато Декан	Південноамериканська	Бразильське плато	Північноамериканська	Великі рівнини	<p><b>Географія материків і океанів.</b> Закономірності формування рельєфу</p>
Австралійська	Центральна низовина									
Індостанська	плато Декан									
Південноамериканська	Бразильське плато									
Північноамериканська	Великі рівнини									
<p><b>44</b></p>	<p>Установіть відповідність між позначеною цифрою на карті України природоохоронною територією та природними об'єктами, що охороняються в її межах.</p>  <table border="1" data-bbox="181 2005 1280 2157"> <tr> <td>1</td> <td>болотні угіддя, соснові та березові заболочені ліси</td> </tr> <tr> <td>2</td> <td>смерекові та ялицеві праліси</td> </tr> <tr> <td>3</td> <td>унікальні острови з прилеглими акваторіями та водно-болотними угіддями</td> </tr> <tr> <td>4</td> <td>ділянка справжнього лучного й чагарникового типчаково-ковилового степу</td> </tr> </table>	1	болотні угіддя, соснові та березові заболочені ліси	2	смерекові та ялицеві праліси	3	унікальні острови з прилеглими акваторіями та водно-болотними угіддями	4	ділянка справжнього лучного й чагарникового типчаково-ковилового степу	<p><b>Природні умови і ресурси України.</b> Природні комплекси. Природоохоронні території</p>
1	болотні угіддя, соснові та березові заболочені ліси									
2	смерекові та ялицеві праліси									
3	унікальні острови з прилеглими акваторіями та водно-болотними угіддями									
4	ділянка справжнього лучного й чагарникового типчаково-ковилового степу									

45	<p>Установіть відповідність між промисловим центром та видом природних ресурсів, що зумовив спеціалізацію цього центру.</p> <table border="1" data-bbox="181 161 1289 312"> <tr> <td>Горлівка</td> <td>кам'яне вугілля</td> </tr> <tr> <td>Кривий Ріг</td> <td>залізна руда</td> </tr> <tr> <td>Моршин</td> <td>мінеральна вода</td> </tr> <tr> <td>Надвірна</td> <td>нафта</td> </tr> </table>	Горлівка	кам'яне вугілля	Кривий Ріг	залізна руда	Моршин	мінеральна вода	Надвірна	нафта	<p><b>Господарство України.</b> Промисловість: сировинна база</p>
Горлівка	кам'яне вугілля									
Кривий Ріг	залізна руда									
Моршин	мінеральна вода									
Надвірна	нафта									
46	<p>Установіть відповідність між галуззю господарства та перспективним напрямом її розвитку в Україні.</p> <table border="1" data-bbox="181 456 1289 637"> <tr> <td>приладобудування</td> <td>створення технопарків і технополісів</td> </tr> <tr> <td>хімічна промисловість</td> <td>винесення окремих підприємств за межі великих міст</td> </tr> <tr> <td>газовидобувна промисловість</td> <td>освоєння шельфу Чорного та Азовського морів</td> </tr> <tr> <td>сільське господарство</td> <td>поглиблення зональної спеціалізації виробництва</td> </tr> </table>	приладобудування	створення технопарків і технополісів	хімічна промисловість	винесення окремих підприємств за межі великих міст	газовидобувна промисловість	освоєння шельфу Чорного та Азовського морів	сільське господарство	поглиблення зональної спеціалізації виробництва	<p><b>Господарство України.</b> Промисловість: принципи та фактори розміщення галузей, проблеми й перспективи розвитку</p>
приладобудування	створення технопарків і технополісів									
хімічна промисловість	винесення окремих підприємств за межі великих міст									
газовидобувна промисловість	освоєння шельфу Чорного та Азовського морів									
сільське господарство	поглиблення зональної спеціалізації виробництва									
47	<p>Установіть відповідність між формою та прикладом міжнародного співробітництва України з країнами світу.</p> <table border="1" data-bbox="181 750 1289 1040"> <tr> <td>міжнародна торгівля товарами</td> <td>експорт з України турбін для електростанції, що будується в Казахстані</td> </tr> <tr> <td>науково-технічне співробітництво</td> <td>участь України в міжнародному проекті запуску космічних кораблів «Морський старт»</td> </tr> <tr> <td>створення спільних підприємств</td> <td>відкриття в м. Мукачеве українсько-австрійського підприємства, що виробляє лижі</td> </tr> <tr> <td>прямі іноземні інвестиції</td> <td>пуск українською корпорацією нової лінії виробництва шоколаду на власній кондитерській фабриці в Угорщині</td> </tr> </table>	міжнародна торгівля товарами	експорт з України турбін для електростанції, що будується в Казахстані	науково-технічне співробітництво	участь України в міжнародному проекті запуску космічних кораблів «Морський старт»	створення спільних підприємств	відкриття в м. Мукачеве українсько-австрійського підприємства, що виробляє лижі	прямі іноземні інвестиції	пуск українською корпорацією нової лінії виробництва шоколаду на власній кондитерській фабриці в Угорщині	<p><b>Світове господарство. Регіони та країни світу.</b> Міжнародні економічні відносини</p>
міжнародна торгівля товарами	експорт з України турбін для електростанції, що будується в Казахстані									
науково-технічне співробітництво	участь України в міжнародному проекті запуску космічних кораблів «Морський старт»									
створення спільних підприємств	відкриття в м. Мукачеве українсько-австрійського підприємства, що виробляє лижі									
прямі іноземні інвестиції	пуск українською корпорацією нової лінії виробництва шоколаду на власній кондитерській фабриці в Угорщині									
48	<p>Установіть відповідність між країною та характеристикою її місця на світовому ринку продукції загального машинобудування.</p> <table border="1" data-bbox="181 1141 1289 1330"> <tr> <td>Японія</td> <td>лідидує у виробництві та експорті промислових роботів</td> </tr> <tr> <td>Китай</td> <td>є найбільшим виробником, споживачем та імпортером верстатів</td> </tr> <tr> <td>Україна</td> <td>спеціалізується на виробництві важких недорогих металообробних верстатів</td> </tr> <tr> <td>Швейцарія</td> <td>виробляє високоточні дорогі верстати переважно на експорт</td> </tr> </table>	Японія	лідидує у виробництві та експорті промислових роботів	Китай	є найбільшим виробником, споживачем та імпортером верстатів	Україна	спеціалізується на виробництві важких недорогих металообробних верстатів	Швейцарія	виробляє високоточні дорогі верстати переважно на експорт	<p><b>Регіони та країни світу.</b> Загальна характеристика країн Європи. Економіко-географічна характеристика окремих держав</p>
Японія	лідидує у виробництві та експорті промислових роботів									
Китай	є найбільшим виробником, споживачем та імпортером верстатів									
Україна	спеціалізується на виробництві важких недорогих металообробних верстатів									
Швейцарія	виробляє високоточні дорогі верстати переважно на експорт									
49–52	<div data-bbox="194 1406 724 1809"> <p>Суцільні горизонталі проведені через 2,5 м</p> </div> <div data-bbox="772 1443 1278 1796"> </div> <p>На топографічній карті виміряно відстань між двома заданими точками, одна з яких розташована на шосе, а друга – на березі озера. Відстань між цими точками зіставлено з лінійним масштабом (див. рисунок). Визначте, якою буде ця відстань (у метрах) на місцевості.</p> <p><b>Відповідь 2800</b></p> <p>Визначте відносну висоту (у метрах) заданої точки на шосе щодо рівня води в озері.</p> <p><b>Відповідь 8</b></p>	<p><b>Способи зображення Землі.</b> Визначення напрямків, абсолютної та відносної висоти місцевості, глибини водойм. Способи вимірювання відстаней на різних географічних і топографічних картах.</p>								

	<p>Знайдіть на карті точку з максимальною абсолютною висотою та укажіть цю висоту (у метрах).</p> <p>Відповідь <b>151</b></p> <p>Визначте азимут, за яким рухається автомобіль по шосе, якщо відомо, що він відхиляється на 3 градуси від напрямку на схід.</p> <p>Відповідь <b>93</b></p>	
<b>53</b>	<p>Укажіть унікальні риси органічного світу Австралії, зумовлені її відокремленістю від інших материків.</p> <p>більшість видів живих організмів – ендеміки найпоширенішою рослиною є евкаліпт велика видова різноманітність сумчастих тварин</p>	<b>Австралія</b>
<b>54</b>	<p>Усі наведені твердження характеризують господарство Німеччини. Виберіть серед них ті, що є ознаками постіндустріального етапу її розвитку.</p> <p>у структурі зайнятості населення переважає сфера послуг промисловість вирізняється високотехнологічною продукцією країна є великим експортером наукової продукції та капіталу</p>	<b>Регіони та країни світу.</b> Німеччина
<b>55</b>	<p>Укажіть особливості розвитку та розташування виробництва сталі у світі на початку XXI століття.</p> <p>збільшення частки металу, виплавленого із вторинної сировини (металобрухту) посилення ролі транспортного чинника в розташуванні металургійних комбінатів лідерство Китаю, Японії і США у світовому виробництві сталі</p>	<b>Світове господарство.</b> Металургія
<b>56</b>	<p>Проаналізуйте профіль поверхні території України, побудований вздовж умовної лінії, що з'єднує крайні західну й східну точки країни.</p>  <p>Укажіть характеристики рельєфу території України, яку відображено на профілі.</p> <p>переважає рівнинний рельєф – височини і низовини гірські пасма на заході країни за висотою є низкими й середніми крайня західна точка країни знаходиться на низовині</p>	<b>Природні умови і ресурси України.</b> Рельєф
<b>57</b>	<p>Які твердження правильно характеризують машинобудування України?</p> <p>у галузевій структурі значна частка важкого машинобудування характерна подетальна та предметна спеціалізація підприємств підприємства розташовані здебільшого у великих і середніх містах</p>	<b>Господарство України.</b> Машинобудування
<b>58</b>	<p>Укажіть особливості розселення населення в Україні.</p> <p>найбільша густота населення – у Донецькій області є міста з чисельністю населення понад 1 млн мешканців навколо великих міст формуються міські агломерації</p>	<b>Населення України.</b> Розселення населення



